



# EJERCICIOS TEMA 4: EL POBLAMIENTO

NOMBRE..... FECHA


1. Realiza un resumen del proceso de urbanización en el planeta.
2. Coloca en los dibujos la época histórica que corresponda según el tipo de ciudad.




A \_\_\_\_\_



B \_\_\_\_\_



C \_\_\_\_\_



D \_\_\_\_\_

3. Define los siguientes términos.

Ensanche

Favela

Slum

Vía pecuaria

Conurbación

Casas obús

Kowloon

Slums

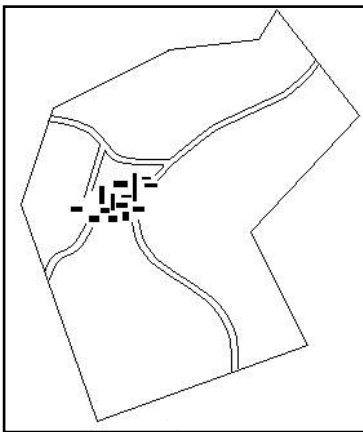
4. Observa la siguiente tabla. En estas dos poblaciones se dedican a las siguientes actividades económicas

	Sector primario	Sector secundario	Sector terciario
Población A	60%	10%	30%
Población B	0%	40%	60%

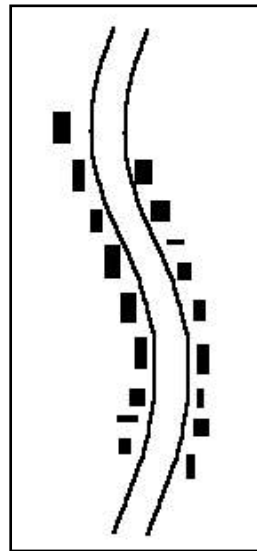
a) Qué población es la ciudad y cuál es el pueblo

b) Razona la respuesta

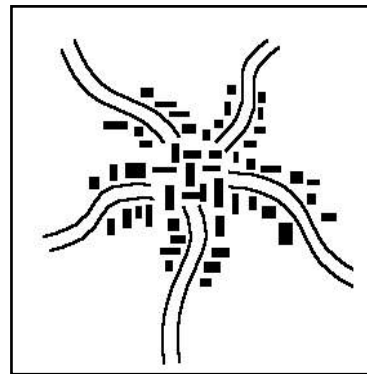
5. Observa los planos de los siguientes núcleos rurales y escribe el tipo de plano a que corresponde cada uno



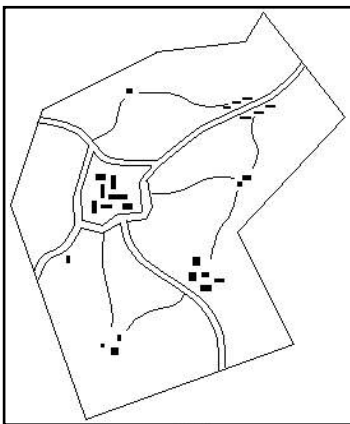
A \_\_\_\_\_



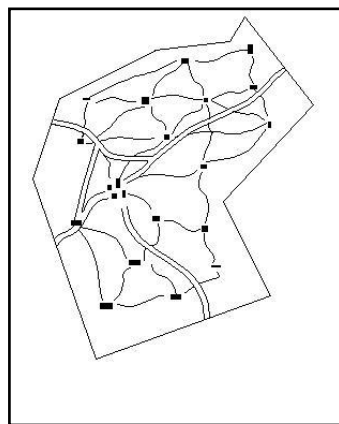
B \_\_\_\_\_



C \_\_\_\_\_



D \_\_\_\_\_



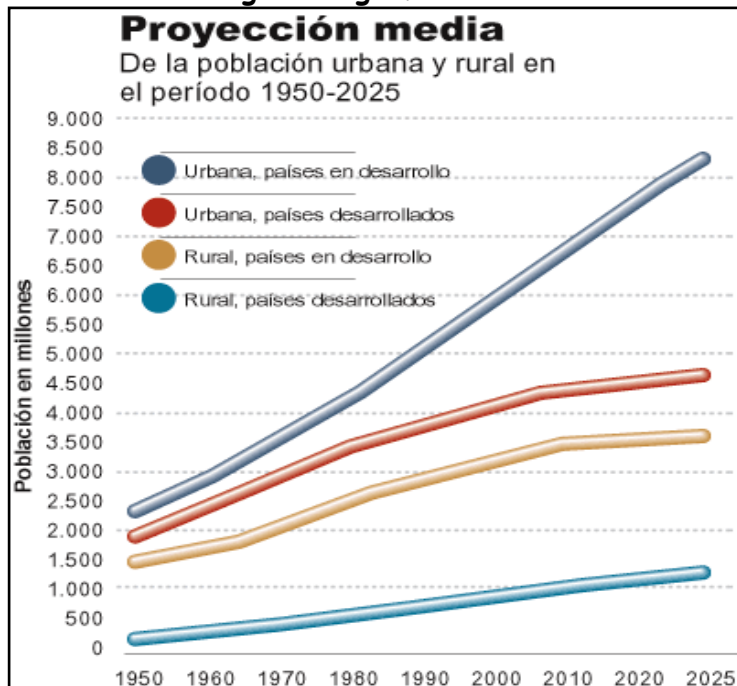
E \_\_\_\_\_

6. ¿Quién fue y qué hizo Filarete?

7. ¿Qué cambios provocó la llegada de la industria a la ciudad?

8. ¿Cuáles fueron los intentos de crear una ciudad relacionada con la naturaleza y más comprometida con los obreros?

9. Comenta el siguiente gráfico



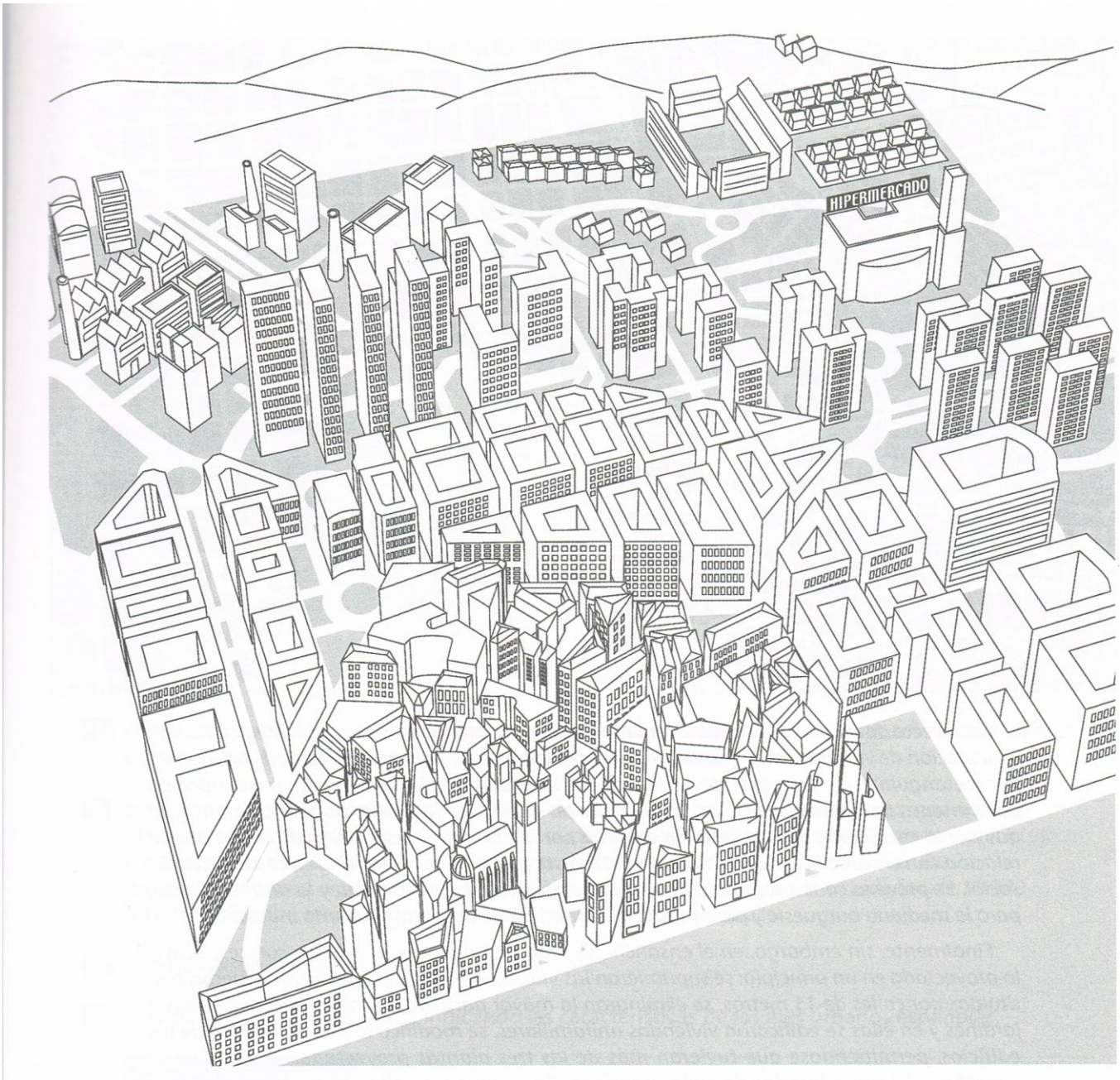
10. Contesta a las siguientes preguntas sobre la estructura urbana

- Qué áreas se diferencian en las ciudades? Cítalas y menciona las características de estas áreas relativas a función que desempeñan, tipo de edificios que presentan, concentración de equipamientos, época de construcción.
- Indica en que área urbana localizarías las siguientes actividades y explica los motivos:
  - Un estadio de fútbol
  - Una industria
  - La sede de una multinacional
  - Un gran centro comercial
  - Una biblioteca municipal
  - Un teatro.
  - Un parque temático

11. Busca información de Cristaler y explica su teoría.

12. Realiza las siguientes actividades en este dibujo que representa una ciudad europea actual.

- Pinta o rodea de amarillo el centro histórico
- De naranja, las ampliaciones del s.XIX.
- De verde, el área residencial de la periferia
- De azul, el área industrial.
- De rojo, el área de equipamientos y servicios.



**13. Lee el siguiente texto contesta:**

Desde la plaza de San Francisco, en pleno centro, llegamos a la de Cervantes. Es esta, los arcos y el soportal nos recuerdan que allí estuvo la antigua cárcel de la ciudad.

Por estas calles no es difícil encontrar escudos nobiliarios. En la plaza de los Caños no debemos dejar de admirar el edificio de la Carnicería y la fuente monumental.

Al final de la calle Milán de Priego nos topamos con parte de la muralla; siguiendo su recorrido salimos a la plaza de la Magdalena, Desde allí hay una maravillosa vista del castillo.

[www.aytojaen.es](http://www.aytojaen.es) (ayuntamiento de Jaén)

- ¿Qué área de la ciudad crees que describe el texto?
- ¿En qué datos te apoyas para identificar esa zona?

14. Completa el siguiente cuadro sobre las características de tipos de planos.

	PLANO IRREGULAR	PLANO ORTOGONAL	PLANO RADIOCENTRICO
Calles			
Planificación			
Épocas			
Tráfico			
Ventajas / Inconvenientes			

15. Lee el siguiente texto contesta:

Desde la plaza de San Francisco, en pleno centro, llegamos a la de Cervantes. Es esta, los arcos y el soportal nos recuerdan que allí estuvo la antigua cárcel de la ciudad.

Por estas calles no es difícil encontrar escudos nobiliarios. En la plaza de los Caños no debemos dejar de admirar el edificio de la Carnicería y la fuente monumental.

Al final de la calle Milán de Priego nos topamos con parte de la muralla; siguiendo su recorrido salimos a la plaza de la Magdalena, Desde allí hay una maravillosa vista del castillo.

[www.aytojaen.es](http://www.aytojaen.es) (ayuntamiento de Jaén)

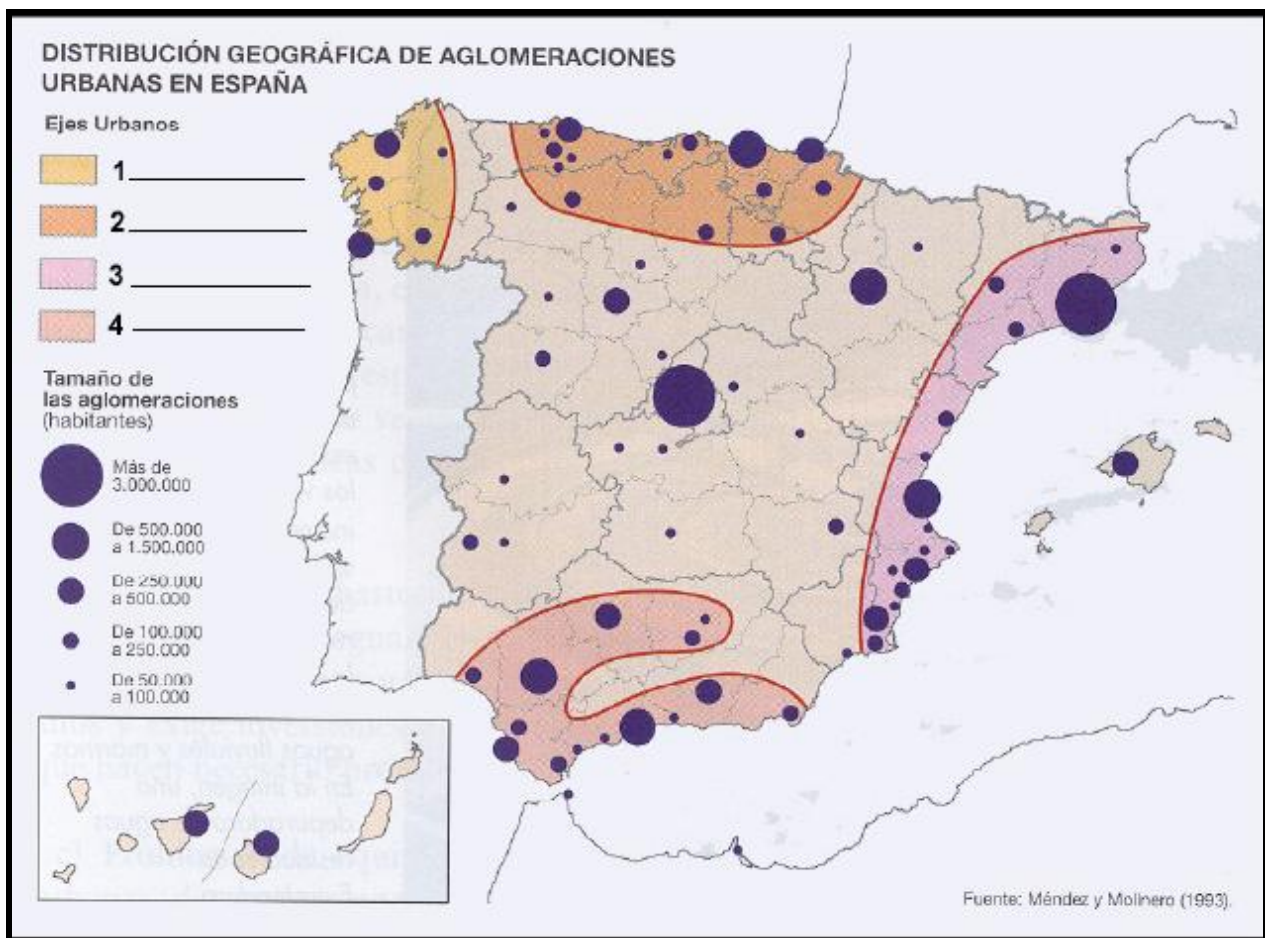
- c) ¿Qué área de la ciudad crees que describe el texto?
- d) ¿En qué datos te apoyas para identificar esa zona?

16. Observa la red urbana de estos dos países y extrae conclusiones.



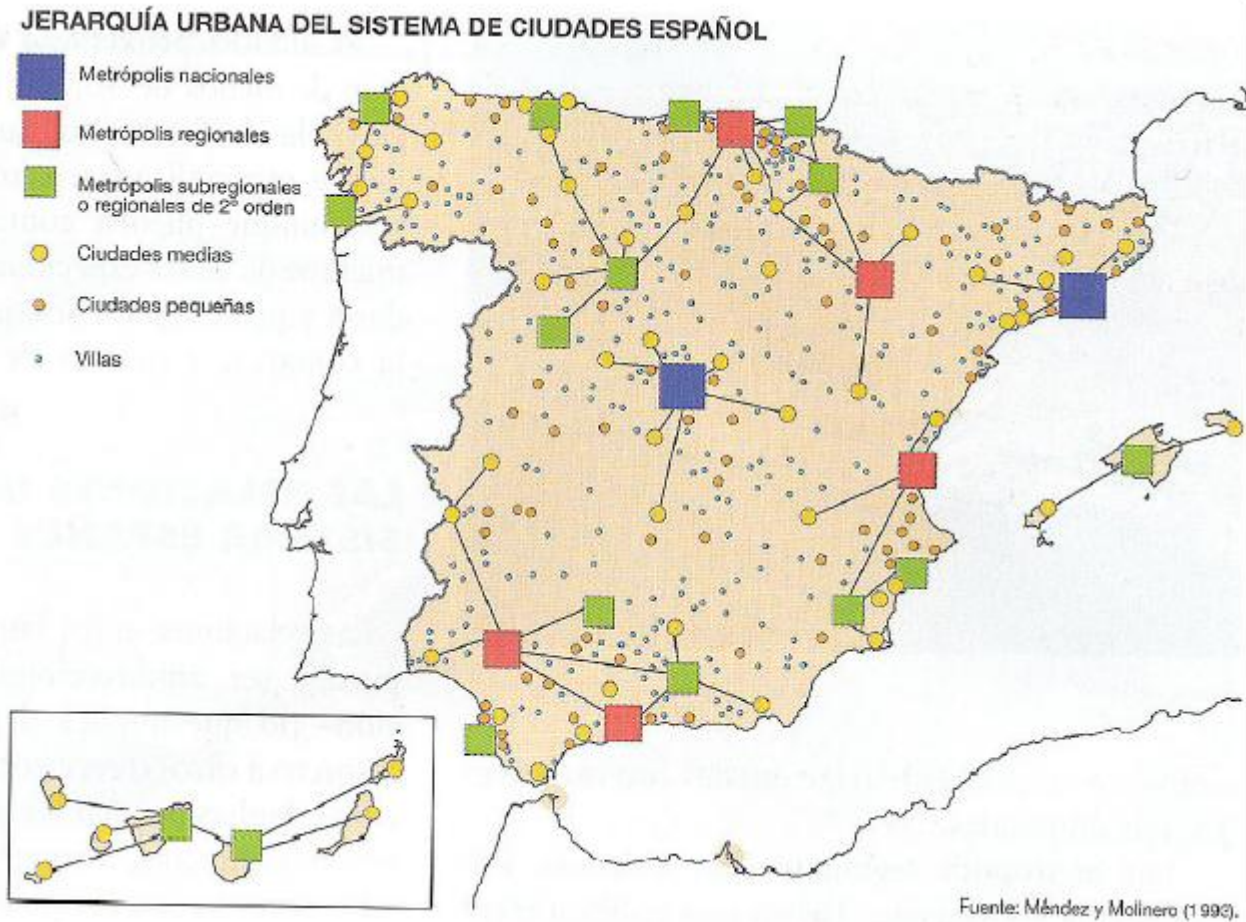
FUENTE: Atlas Universal, Salvat (Geografía Universal).

17. Observa el dibujo y contesta



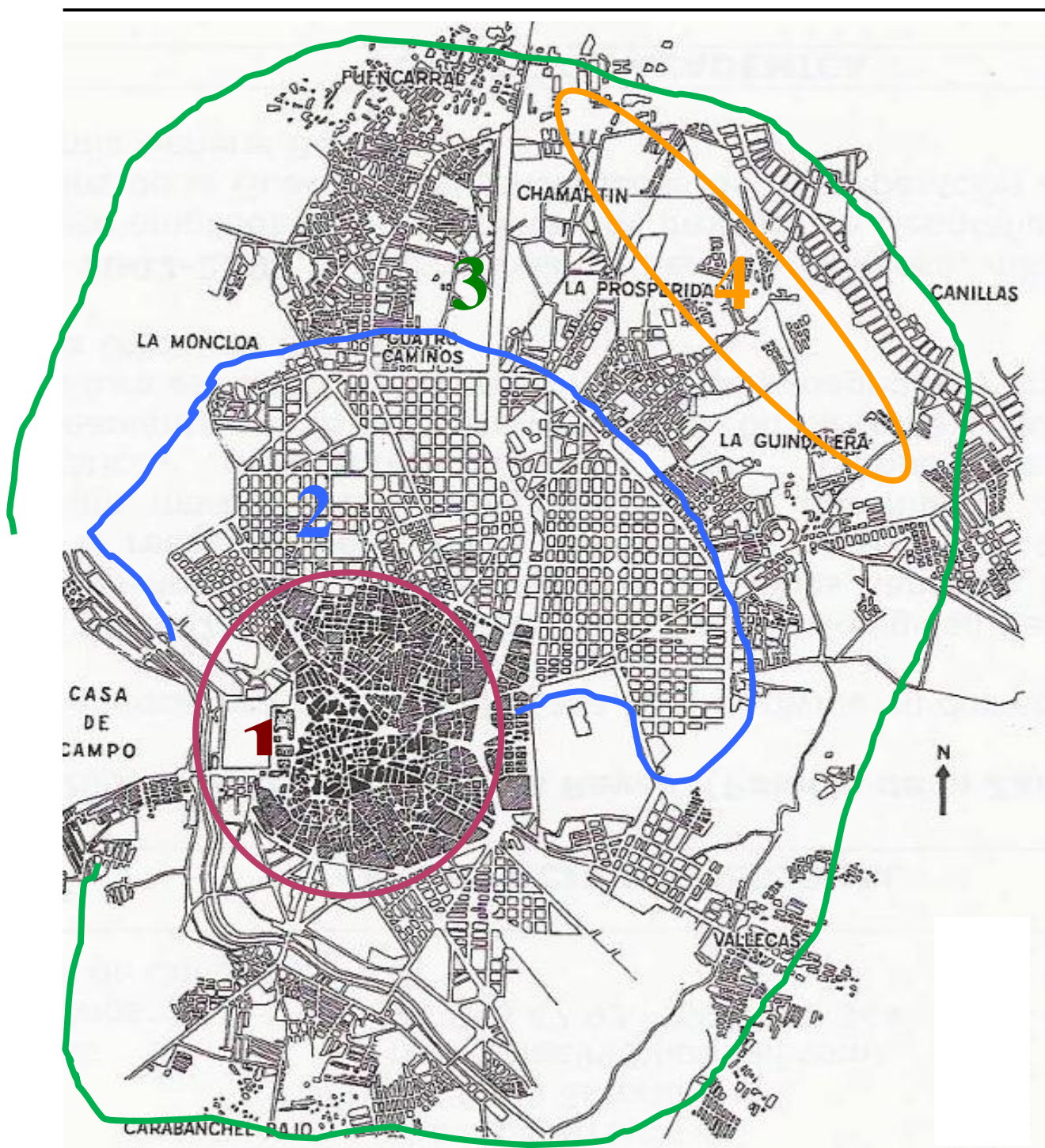
- Escribe el nombre de las ciudades que tienen más de 500.000 habitantes
- Escribe el nombre de los cuatro ejes representados
- Explica ayudándote del mapa la red urbana española

**18. Observa el mapa y contesta**



- Escribe el nombre de las metrópolis nacionales, de las regionales y de las subregionales
- ¿Qué contrastes existen entre el centro y la periferia

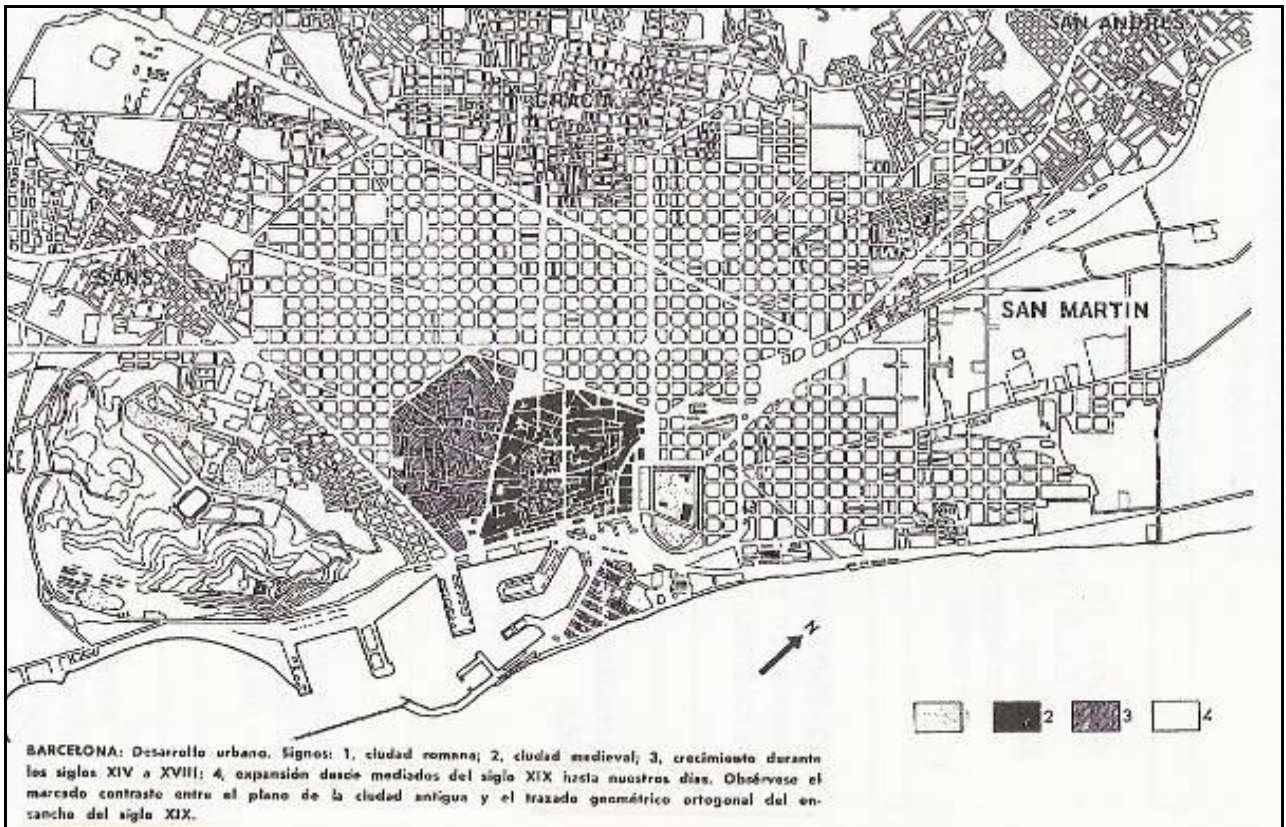
19. Observa el mapa y contesta



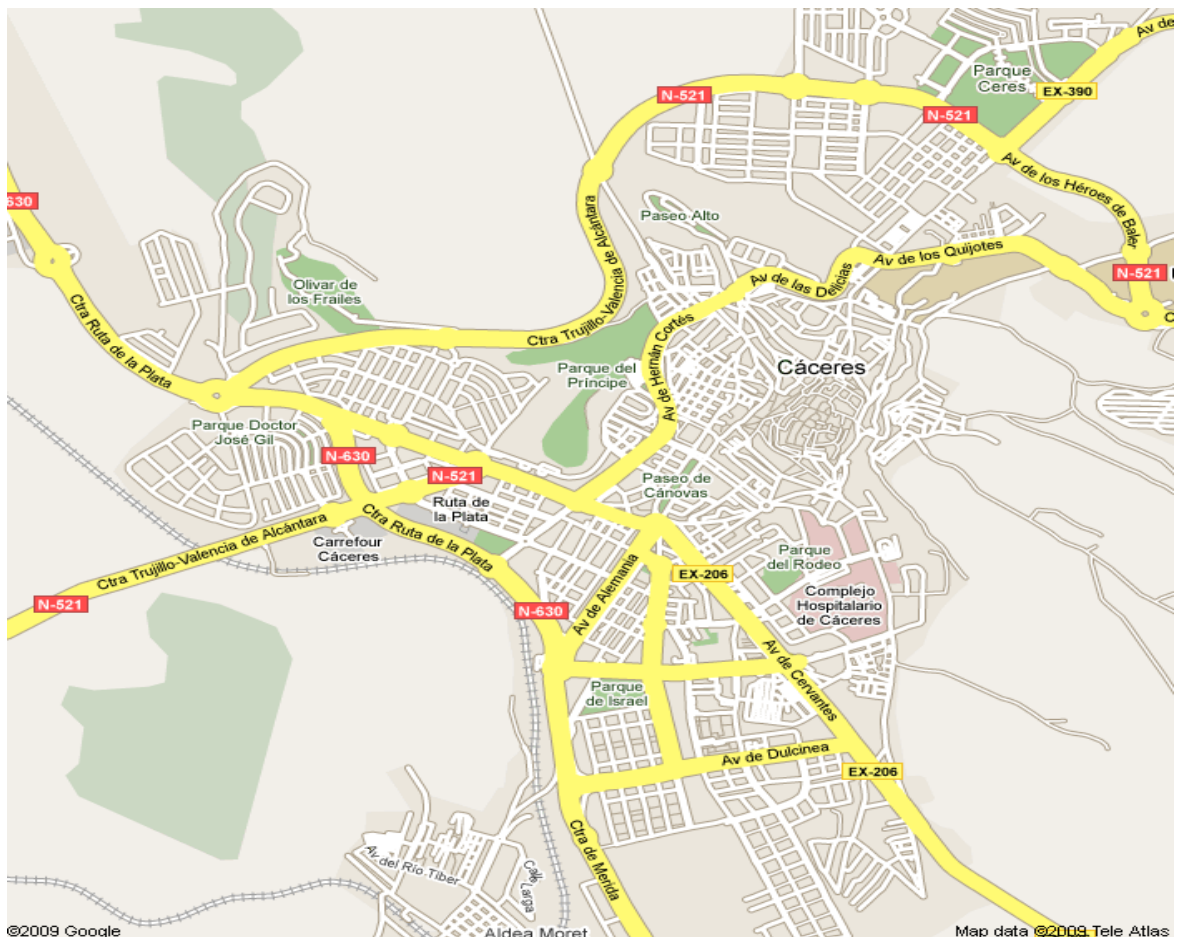
- a) ¿A qué zona de la ciudad corresponde los números?
- b) ¿Qué tipo de plano tiene la zona 1, 2, y 4?
- c) ¿A qué época corresponde el 1, 2, 3 y 4?



20. Explica con ayuda del plano, cuáles y por qué son las líneas de fijación de la ciudad de Barcelona y señálalas. Rodea y nombra las tres zonas fundamentales de la estructura de esta ciudad



21. Localiza los planos irregular, ortogonal y radiocéntrico con distintos colores



22. Localiza las siguientes ciudades en el mapa y después escribe el país y el continente al que pertenecen

<b>PRINCIPALES CIUDADES DEL MUNDO</b>		
<b>Ciudad</b>	<b>PAÍS</b>	<b>CONTINENTE</b>
Tokyo		
Nueva York		
México City		
São Paulo		
Los Ángeles		
Mumbai (Bombay)		
Osaka		
Shanghai		
Kolkata (Calcuta)		
Cairo, El		
Delhi		
Buenos Aires		
Beijing (Pekín)		
Paris		
Río de Janeiro		
Seul		
Karachi		
Tianjin		
Moscú		
Chicago		
Nagoya		
Jakarta		
Manila		
Dhaka		
Estanbul		
Washington		
Londres		
Hong Kong		
San Francisco		
Chongqing		
Teherán		
Lima		
Bangkok		
Philadelphia		
Santa Fe de Bogotá		
Boston		
Detroit		
Bangalore		
Dallas		
St. Petersburg		
Madrid		



